

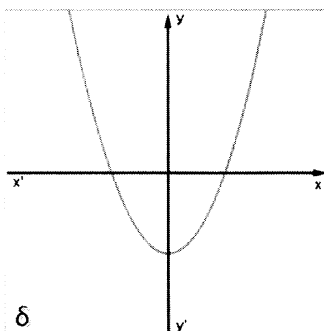
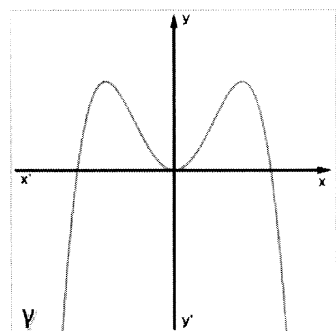
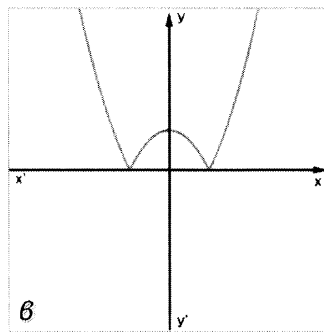
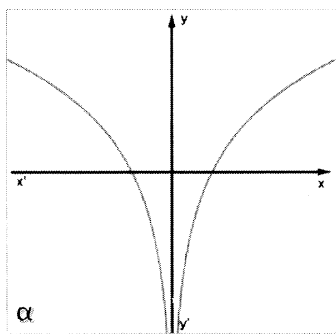
3

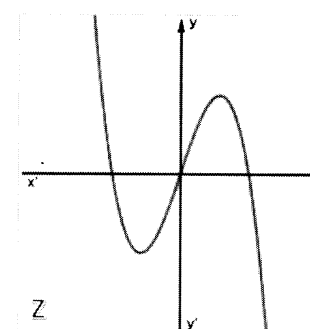
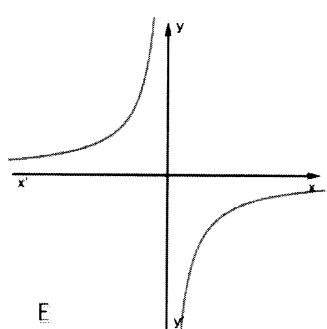
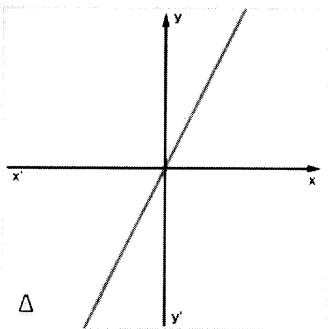
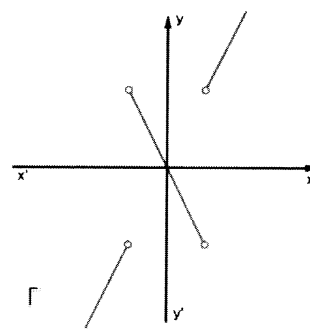
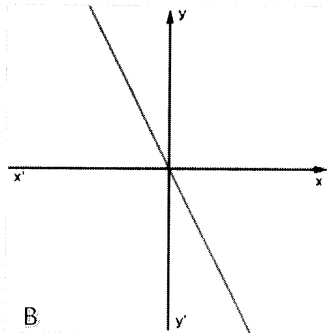
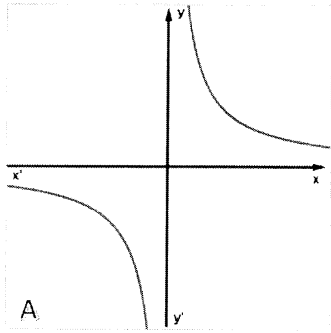
11 Έστω μια συνάρτηση f παραγωγίσιμη σ' ένα διάστημα (α, β) , με εξαίρεση ίσως ένα σημείο x_0 , στο οποίο όμως η f είναι συνεχής.

Αν η $f'(x)$ διατηρεί πρόσημο στο $(\alpha, x_0) \cup (x_0, \beta)$, τότε να αποδείξετε ότι το $f(x_0)$ δεν είναι τοπικό ακρότατο και η f είναι γνησίως μονότονη στο (α, β) .

Λύση:

12 Να αντιστοιχίσετε τις γραφικές παραστάσεις των συναρτήσεων $\alpha, \beta, \gamma, \delta$ σε εκείνη από τις γραφικές παραστάσεις των συναρτήσεων $A, B, \Gamma, \Delta, E, Z$ που νομίζετε ότι είναι η παράγωγός της.





ΑΠΑΝΤΗΣΕΙΣ

33. Θεωρούμε τη συνάρτηση $f(x) = \frac{1}{x}$, $x > 0$ και έστω $0 < \alpha < \beta$.

Χωρίζουμε το διάστημα $[a, \beta]$ σε v διαστήματα, πλάτους $\Delta x = \frac{\beta - \alpha}{v}$ το καθένα, τα $[a, x_1], [x_1, x_2], [x_2, x_3], \dots, [x_{v-1}, \beta]$ και έστω $\xi_k \in (x_{k-1}, x_k)$ για κάθε

$k \in \{1, 2, 3, \dots, v\}$. Τότε το όριο $\lim_{v \rightarrow \infty} \left(\sum_{k=1}^v f(\xi_k) \Delta x \right)$ ισούται με:

- A. $\frac{\beta - \alpha}{\alpha\beta}$, B. $\ln \frac{\beta}{\alpha}$, Γ. $\beta - \alpha$, Δ. $\frac{1}{\beta^2} - \frac{1}{\alpha^2}$

Λύση: 33

34. Να χαρακτηρίσετε τις προτάσεις που ακολουθούν, γράφοντας στο τετράδιο σας, δίπλα στο γράμμα που αντιστοιχεί σε κάθε πρόταση, τη λέξη **Σωστό**, αν η πρόταση είναι σωστή, ή **Λάθος**, αν η πρόταση είναι λανθασμένη.

- α. $\lim_{x \rightarrow +\infty} \left(x \eta \mu \frac{1}{x} \right) = 0$.
 β. Η συνάρτηση $f(x) = ax^3 + bx^2 + \gamma x + \delta$ με $a \neq 0$ έχει πάντα ένα ακριβώς σημείο καμπής.
 γ. $(\epsilon \phi x)' = 1 + \epsilon \phi^2 x$, με $x \neq k\pi + \frac{\pi}{2}$, $k \in \mathbb{Z}$.
 δ. $\int_1^e \ln x \, dx = \int_e^1 \ln \frac{1}{t} \, dt$.
 ε. Κάθε συνάρτηση ορισμένη σε ένα διάστημα Δ , έχει παράγουσα στο Δ .

ΑΠΑΝΤΗΣΕΙΣ 34

ΘΕΜΑ Β

Δίνεται η συνάρτηση

$$f(x) = x^2 - \frac{2}{x}, \quad x \in \mathbb{R}^*.$$

- B1. Να μελετήσετε τη συνάρτηση f ως προς τη μονοτονία και να βρείτε τα τοπικά της ακρότατα.
- B2. Να μελετήσετε τη συνάρτηση f ως προς την κυρτότητα και να βρείτε τα σημεία καμψής της γραφικής της παράστασης C_f .
- B3. Να βρείτε τις ασύμπτωτες της C_f .
- B4. Να σχεδιάσετε τη γραφική παράσταση της f , λαμβάνοντας υπόψιν σας τα προηγούμενα ερωτήματα.

Μονάδες (6+8+6+5)=25

ΘΕΜΑ Γ

Δίνεται παραγωγίσιμη συνάρτηση $f : (1, +\infty) \rightarrow \mathbb{R}$ με σύνολο τιμών το διάστημα $(-\infty, -1]$, για την οποία ισχύει

$$f'(x) + e^{x-2} = \frac{1}{x-1}, \quad \text{για κάθε } x > 1.$$

Γ1. Να δείξετε ότι $f(2) = -1$.

Γ2. Να δείξετε ότι

$$f(x) = \ln(x-1) - e^{x-2}, \quad x \in (1, +\infty)$$

και να μελετήσετε τη συνάρτηση f ως προς την κυρτότητα, τη μονοτονία και τα ακρότατα.

Γ3. Να λύσετε στο διάστημα $(1, +\infty)$ την εξίσωση

$$\left(\frac{1}{2}\right)^{f(x)} + \left(\frac{1}{3}\right)^{f(x)} + \left(\frac{1}{4}\right)^{f(x)} = 9$$

Γ4. Να δείξετε ότι

$$(x+1) \cdot f(x^2) > f(x^3) + x \cdot f(x), \quad \text{για κάθε } x \in (1, +\infty)$$

Μονάδες (7+8+5+5)=25

ΘΕΜΑ Δ

Δίνεται η συνάρτηση

$$f(x) = \begin{cases} \frac{\ln x - 1}{\ln x - x}, & \text{αν } x > 0 \\ 1, & \text{αν } x = 0 \end{cases}.$$

Δ1. Να αποδείξετε ότι η f είναι συνεχής.

Δ2. Να αποδείξετε ότι

η συνάρτηση f παρουσιάζει στο 0 και στα σημεία α, β , με $0 < \alpha < 1 < \beta$ τοπικά ακρότατα.

Δ3. Να αποδείξετε ότι

$$\frac{1}{1-\beta} \leq f(x) \leq \frac{1}{1-\alpha} \text{ για κάθε } x \in [0, +\infty).$$

Δ4. α. Να βρείτε την εφαπτομένη (ε) της C_f στο σημείο της $M(1,1)$.

β. Να αποδείξετε ότι η C_f είναι κάτω από την ευθεία (ε) στο διάστημα $(0,1)$ και πάνω από την ευθεία (ε) στο διάστημα $(1,+\infty)$.

Δ5. Να αποδείξετε ότι

$$\int_1^2 \frac{f(x)}{\sqrt{x^2 - 4x + 5}} dx > \sqrt{2} - 1.$$

Μονάδες $[2+6+6+(2+4)+5]=25$